

Т.М.  
435

Шифр участника Б-мвдг-3

**Уважаемый участник!**

**Школьный этап олимпиады по труду (технологии) проходит в 2 тура:**

- 1 тур – теоретический (вопросы и тесты, творческое задание);
- 2 тур – практическая работа: ручная обработка швейного изделия или узла;

**Время на выполнение олимпиадных заданий:**

- тестирование участников в течение - 40 мин.;
- выполнение практической работы - 90 мин;

**Общая максимальная сумма баллов, которую может набрать конкурсант - 55 баллов.**

Эта сумма распределяется в следующих величинах по турам конкурса:

**I тур. Теоретические задания (20 баллов)**

- тестирование (проверка теоретических знаний) - 14 баллов;
- творческое задание (используя цветные карандаши) - 6 баллов.

**II тур. Практическая работа (35 баллов)**

- выполнение практического задания

Комплект для первого тура олимпиады включает 15 заданий, из которых 14 заданий теоретические и одно задание творческое.

Вам необходимо внимательно прочитать текст каждого задания и выполнить его в строгом соответствии с формулировкой, то есть дать на каждый из вопросов как можно более полный ответ и выполнить все необходимые расчеты.

Каждое правильно выполненное задание № 1-14 оценивается в 1 балл, полностью правильно выполненное задание № 15 оценивается в 6 баллов.

Максимальное количество баллов, которое участник может набрать в первом туре, составляет 20 баллов.

Продолжительность первого (теоретического) тура составляет 40 минут.

Шифр участника 5 класс - 3

## I тур. Теоретические задания

### Общая часть

1. (1 балл) Стены станции «Давыдково» Большой кольцевой линии московского метрополитена украшены барельефами с изображениями работников МЧС (Министерство Российской Федерации по делам гражданской обороны, чрезвычайным ситуациям и ликвидации последствий стихийных бедствий). Рассмотрите фотографию.









Изображение представителя какой профессии приведено на данной фотографии?

- а) сапёр
- б) лётчик
- в) водолаз
- г) кинолог
- д) пожарный

16 Ответ: г

Шифр участника 5-тех-3

2. (1 балл) Среди предложенных изображений выберите то, на котором приведена маркировка с упаковки изделия, указывающая на то, что груз следует защищать от попадания прямых солнечных лучей.

А		Г	
Б		Д	
В		Е	


16 Ответ: а +

3. (1 балл) В апреле 1899 года состоялось открытие первой линии трамвая в Москве. Она прошла от Бутырской заставы до Петровского парка. Проезд на трамвае стоил 6 копеек. Сколько нужно было заплатить копеек за проезд на трамвае семье, состоявшей из папы, мамы, бабушки, дедушки, дяди и двух детей? Каждому члену семьи нужно было приобрести билет за полную цену.

16 Ответ: 42 копейки +

Шифр участника 5 мес 9 - 3

4. (1 балл) Рассмотрите рисунки. Определите, на каких из них изображены сельскохозяйственные культуры.



Об Ответ: а, в, г, е

5. (1 балл) Деревянный брус имеет форму прямоугольного параллелепипеда. Длина бруса равна 21 см, ширина 15 см, высота 120 мм. Определите объём данного бруса. Ответ выразите в кубических сантиметрах.

Об Ответ: 630 см<sup>3</sup>

Шифр участника 5 месг-3

**Специальная часть**

6. (1 балл) Выберите, к какому виду художественной росписи относится изделие, изображённое на рисунке.



- а) гжельская роспись
- б) мезенская роспись
- в) городецкая роспись
- г) жостовская роспись
- д) хохломская роспись
- е) семикаракорская роспись

15 Ответ: а +

7. (1 балл) Из предложенного списка выберите блюдо, в рецепт которого входят только пищевые продукты растительного происхождения.

- а) омлет
- б) какао
- в) сун харчо
- г) винегрет

15 Ответ: г +

8-9

8. (1 балл) Отгадайте загадку, получите название пищевого продукта. В ответ запишите только одно слово в именительном падеже.

«Не снег,  
А белое всегда.  
Хоть и течёт,  
А не вода».

15 Ответ: молоко +

Шифр участника 5 месг-3

9. (1 балл) Из предложенного списка выберите все пищевые продукты, сырьём для производства которых является отгадка на загадку.

а) масло сливочное б) гречневая крупа в) йогурт г) морковь д) баранина е) сыр

10 Ответ: б, в, д. +

10. (1 балл за полностью верный ответ) Внимательно рассмотрите изображения сервировки стола. Для каждого названия приёма пищи выберите одно, соответствующее ему изображение сервировки.

Названия приёмов пищи			
завтрак		обед	
1		2	
Изображения сервировки			
			
А	Б	В	Г

10 Ответ: завтрак-а, обед-г +

11. (1 балл) Из предложенного списка выберите слово, чтобы получить известную поговорку: «Каково волокно, таково и ...».

а) толокно б) полотно в) домино г) Бородино

10 Ответ: б +

12. (1 балл) Сколько бутербродов с колбасой можно приготовить из трёх батончиков хлеба, 2 кг молочной колбасы и 300 г сливочного масла, если для приготовления 1 бутерброда нужно 50 г колбасы, 1 кусок хлеба и 5 г сливочного масла? Хлеб купили в нарезке, в одном батоне 25 кусков.

Решение:

10 Ответ: 40 бутербродов +

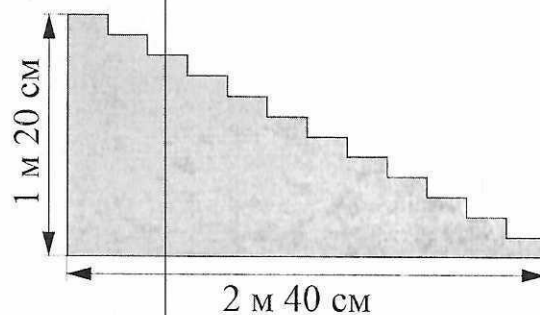
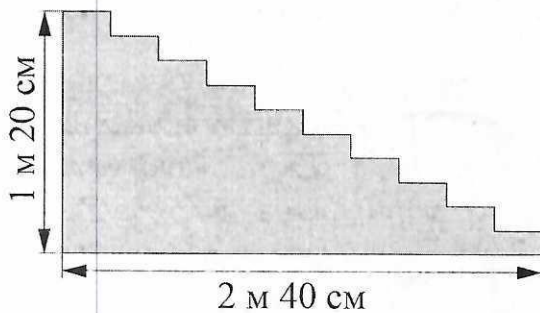
Шифр участника 5 месд-3

13. (1 балл) Как по правилам этикета нужно расположить нож и вилку относительно тарелки?

- а) нож и вилку справа, нож ближе к тарелке
- б) нож справа, вилку слева
- в) нож и вилку слева, нож ближе к тарелке
- г) нож и вилку справа, вилка ближе к тарелке
- д) нож и вилку слева, вилка ближе к тарелке

05 Ответ: б —

14. (1 балл) В доме две парадные лестницы. У первой лестницы 10 ступенек, у второй – 12 (см. рисунок). Высота обеих лестниц 1 м 20 см, длина основания 2 м 40 см. Для какой лестницы понадобится ковровая дорожка большей длины?



- а) для первой
- б) для второй
- в) дорожки одинаковые

05 Ответ: а —

Шифр участника 5 класс - 3

**15. (6 баллов). Творческое задание.**


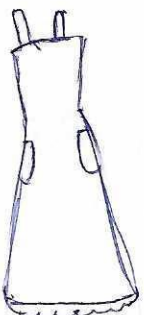
Выполните один из эскизов фартука с нагрудником (на выбор) по предложенному описанию, используя разные цвета, дополняя своей декоративной отделкой и фасонными изменениями:

А) с закругленным низом, на бретелях, с двумя накладными карманами;

Б) отрезной с трапециевидным нагрудником, на бретелях, нижняя часть с мягкими складками по талии, низ которого заканчивается одним большим накладным карманом;

В) отрезной с нагрудником в форме сердца, на бретелях, нижняя часть со сборкой по линии талии.

**1. Внесите ответы в таблицу:**

Описание (А, Б, или В)	Эскиз (3 балла)
<p>а</p>	
<p>Волокнистый состав ткани (2 балла)</p> <p>кожа</p>	
<p>Декоративная отделка и фасонные изменения (1 балла)</p> <p>добавления отсутствуют</p>	<p>25</p>